

الجمهورية الجزائرية الديمقراطية الشعبية

الديوان الوطني للامتحانات والمسابقات

دورة: جوان 2010

وزارة التربية الوطنية

امتحان بكالوريا التعليم الثانوي

الشعبة: آداب وفلسفة

المدة: 04 ساعات ونصف

اختبار في مادة: التاريخ و الجغرافيا

على المترشح أن يختار أحد الموضوعين التاليين

الموضوع الأول

التاريخ

الجزء الأول: (06 نقاط)

« كلما ابتعدنا عن نهاية الحرب ظهرت في منتهى الوضوح القيادتان الأساسيتان للسياسة الدولية لما بعد الحرب... الكتلة الإمبريالية المناهضة للديمقراطية، والكتلة الديمقراطية المناهضة للإمبريالية. فالولايات المتحدة هي القوة الأساسية المنزعة للكتلة الإمبريالية... وتدعم هذه الكتلة بلدان مالكة لمستعمرات، كما تدعمها بلدان ذات أنظمة رجعية مناهضة للديمقراطية، مثل تركيا واليونان، ومدعومة كذلك من قبل بلدان تابعة سياسيا واقتصاديا للولايات المتحدة مثلا الشرق الأوسط وأمريكا الجنوبية... وتكوّن القوى المناهضة للإمبريالية والفاشية الكتلة الأخرى التي أساسها الاتحاد السوفيتي وبلدان الديمقراطيات الجديدة... مثلا رومانيا والمجر وفنلندا... تركز الكتلة المناهضة للإمبريالية في كل البلدان على الحركة العمالية والديمقراطية وعلى الأحزاب الشيوعية وعلى المقاومين في حركات التحرير الوطني بالبلدان المستعمرة...»

أ. فونتين: في تاريخ الحرب الباردة، منشورات فايار 1967 - ص: 211

1- اشرح ما تحته خط في النص.

2- عرف بالشخصيات التالية: جمال عبد الناصر - أحمد سوكارنو - أندري جدانوف - هاري ترومان.

3- على خريطة العالم وقّع الدول التالية: تركيا - اليونان - رومانيا - المجر.

4- أكمل الجدول التالي:

التاريخ	الحدث
1947/09/22
.....	الانتهاء من إقامة جدار برلين
من 05 إلى 09 سبتمبر 1973
.....	وصول غورياتشوف إلى الحكم

صفحة 1 من 8

الجديد و الحصري فقط على موقع الأستاذ Lotphilosophie

sites.google.com/site/lotphilosophie

الجزء الثاني: (04 نقاط)

رغم المآسي والآلام التي خلفتها مجازر 08 ماي 1945 بالنسبة للشعب الجزائري والحركة الوطنية غير أنها في نفس الوقت مثلت القاعدة الصلبة التي انطلقت منها فكرة للكفاح المسلح.

المطلوب: انطلاقا من الفقرة، واعتمادا على ما درست. اكتب مقالا تاريخيا تجيب فيه على:

1- انعكاسات هذه الأحداث الدامية على مسار الحركة الوطنية.

2- موقف الاستعمار من التطور الحاصل في الحركة الوطنية.

الجغرافيا

الجزء الأول: (06 نقاط)

كان من المفروض أن يفضي تكوّن حركة العولمة المالية الأولى التي حدثت بين 1840-1914 وسمحت بنقل كميات ضخمة من رؤوس الأموال إلى بلدان العالم الجديد، وكانت عاملا محفزا للتنمية، فإن العولمة المالية الحالية تبقى شأنا شمال شمال... فبلدان الجنوب لا تستفيد إلا بقدر ضعيف من هذه الحركة وهي في المقابل تتضرر مما يواكب هذه العولمة من تقلبات وعدم استقرار نقدي، كما أن الأزمات الدورية التي تتعرض لها تبعد عنها المستثمرين الذين لا يقرضون إلا عددا محدودا منها. ففي سنة 2002 قلّت نسبة رؤوس الأموال المستثمرة في البلدان الصاعدة عن ربيع الاستثمارات التي استقطبتها الولايات المتحدة الأمريكية.

المصدر : سندرامواتي مجلة alternatives économiques عدد 2003/219.

1- اشرح ما تحته خط في النص.

2- على خريطة العالم وقّع خمس دول جديدة صاعدة.

3- إليك جدولا يمثل تطور رصيد الاستثمار الأجنبي المباشر في العالم:

السنة	1980	1990	2002	2004
قيمة رصيد الاستثمار	601	1785	7123	9732

الوحدة : (مليار دولار).

مثل أرقام الجدول بمنحنى بياني بمقياس رسم : 1 سم ← 500 مليار دولار.

1 سم ← 2 سنة.

الجزء الثاني: (04 نقاط)

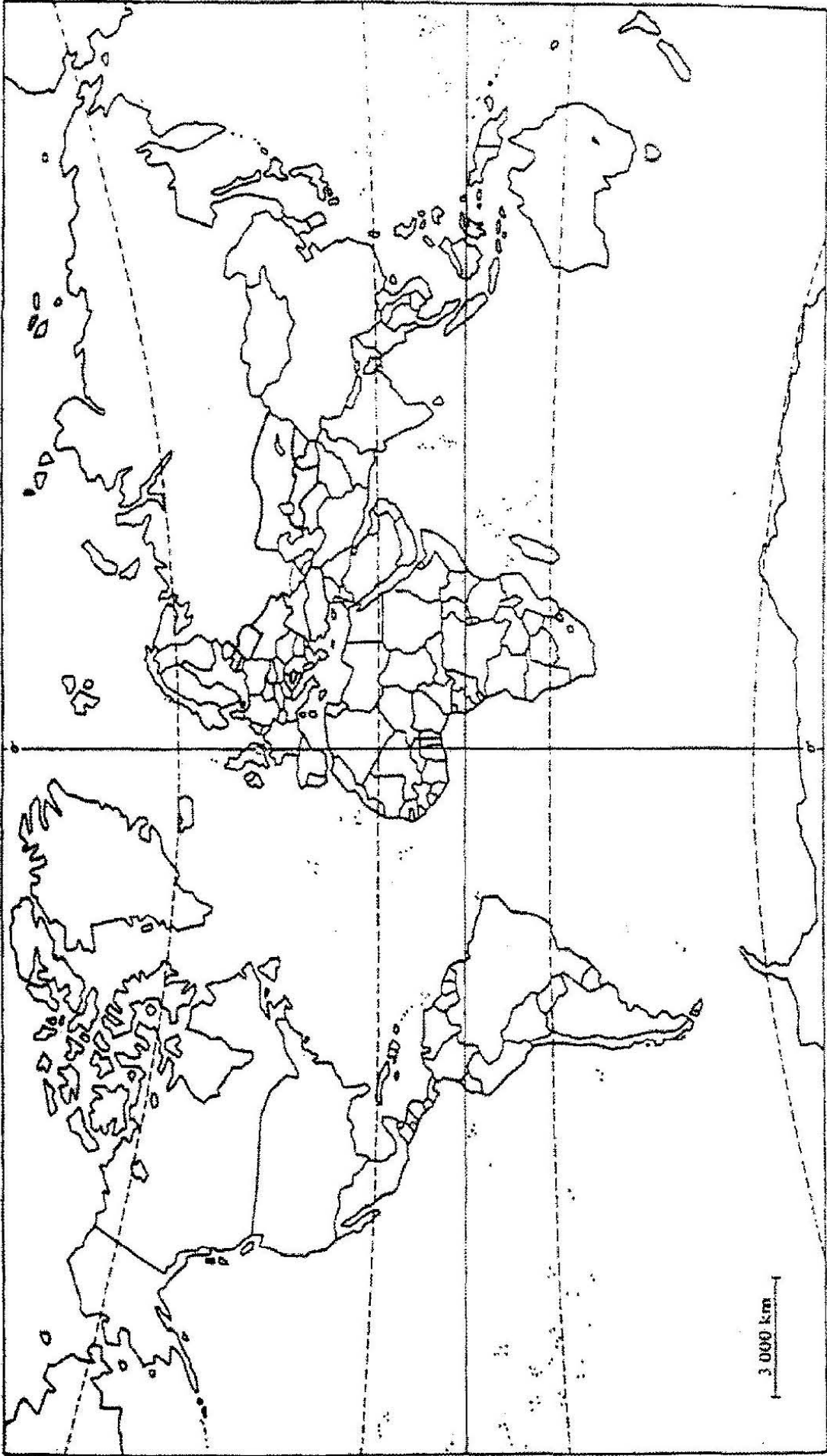
تعتبر آسيا الشرقية والجنوبية الشرقية قوةً ديموغرافيةً وفضاءً قويًا للنمو الاقتصادي، تمّ فيها تنظيم الشبكات الكبرى للمبادلات على المستوى العالمي.

المطلوب: انطلاقًا من الفكرة، واعتمادًا على ما درست. اكتب مقالًا جغرافيًا تجيب فيه على:

1- استثمار العنصر البشري في تطوير النمو الاقتصادي.

2- مكانة المنطقة في الاقتصاد العالمي.

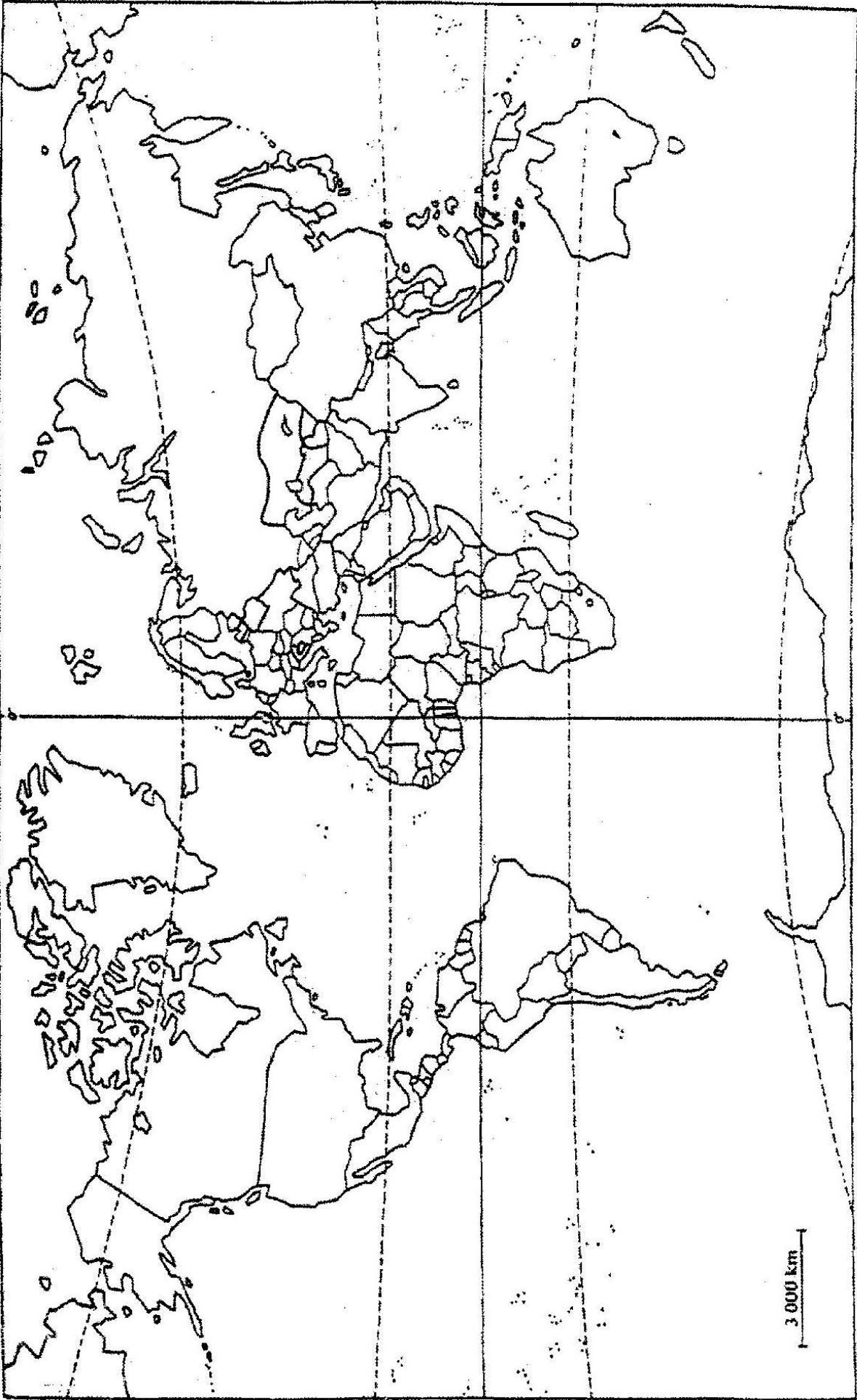
خريطة العالم: الدول الأربع



ينجز العمل على الخريطة وتعداد مع أوراق الإجابة

صفحة 4 من 8

خريطة العالم: 5 دول جديدة صاعدة



ينجز العمل على الخريطة وتعاد مع أوراق الإجابة

صفحة 5 من 8

الموضوع الثاني

التاريخ

الجزء الأول: (06 نقاط)

« عرفت شوارع العاصمة والعديد من المدن الجزائرية الأخرى يوم 11/12/1960 نزول الشعب الجزائري في مظاهرات للإعلان عن رغبته في نيل الاستقلال وتدعيمه المطلق للكفاح المسلح، فكان ذلك بمثابة البركان الشامل الأثر الذي نسف وهم الاستعمار في فصل الشعب عن جبهة التحرير الوطني. كما يمثل هذا اليوم محطة بارزة في تاريخنا المعاصر، ومنعطفًا حاسمًا ألغيت فيه كل الأفكار والمفاهيم التي كانت توهم بخضوع الشعب الجزائري للأمر الواقع وكذا بقبوله للاندماج...»

كتاب التاريخ السنة الثالثة من التعليم الثانوي - ص: 202.

1- اشرح ما تحته خط في النص.

2- عرف الشخصيات التالية :

فرحات عباس - بن يوسف بن خدة - مصطفى بن بولعيد - العربي بن مهيدي.

3- اكمل الجدول التالي المتعلق بأحداث وتواريخ معلمية تخص الثورة الجزائرية:

التاريخ	الحدث
.....	مؤتمر الصومام
19 سبتمبر 1958
.....	سلم الشجعان
19 مارس 1962

الجزء الثاني: (04 نقاط)

كان ظهور تجمع حركة عدم الانحياز في أوائل الستينات محطة هامة على طريق البحث عن فلسفة سياسية للعالم الثالث في إطار النسق الدولي العالمي.

المطلوب: انطلاقًا من الفكرة، واعتمادًا على ما درست. اكتب مقالا تاريخيا تجيب فيه على:

1- ظروف نشأة حركة عدم الانحياز.

2- دورها في قضايا التحرر.

الجغرافيا

الجزء الأول: (06 نقاط)

رغم الانقسام والانهيار الذي أصابها أثناء الحرب العالمية الثانية، تمكنت أوروبا من استعادة قوتها ووحدتها، بداية بتأسيس سوق مشتركة تضم 06 دول أعضاء سنة 1957 وصولا إلى إتحاد أوروبي يضم 27 دولة سنة 2007. قد أدى انضمام أعضاء آخرين إلى الإتحاد والنمو الاقتصادي المتزايد بسبب توحيد السوق الأوروبية إلى مضاعفة الوزن الاقتصادي للمجموعة في ظرف 40 سنة، يتبنى الإتحاد الأوروبي في الوقت الراهن مشروعا طموحا للاندماج الاقتصادي والسياسي ويواصل مواجهة تحديات جديدة. الكتاب المدرسي السنة 3 ثانوي صفحة 63.

- 1- اشرح ما تحته خط في النص.
- 2- وقّع على خريطة الإتحاد الأوروبي الدول المؤسسة له.
- 3- إليك جدولا يمثل كمية الإنتاج الزراعي ونسبة المساهمة العالمية لدول الإتحاد الأوروبي:

المنتجات	كمية الإنتاج	نسبة المساهمة العالمية %
القمح	99	17.7
الشعير	55	38.9
البطاطا	60	19
البنجر السكري	121.5	52.7

الوحدة : مليون طن المصدر: أورستات منظمة الأغذية والزراعة-2003.

- مثل نسب المساهمة العالمية بأعمدة بيانية: 1 سم ← 5 % ، 1 سم ← عمود.

الجزء الثاني: (04 نقاط)

يتسم المجال العالمي بتفاوت واضح في التقدم الاقتصادي والاجتماعي، و بتركيبة ثنائية شمال متقدم وجنوب متخلف.

المطلوب: انطلاقا من الفكرة، واعتمادا على ما درست. اكتب مقالا جغرافيا تجيب فيه على:

- 1 - أسباب التفاوت بين العالمين.
- 2 - المعايير الاقتصادية والاجتماعية المعتمدة في التصنيف.

خريطة الاتحاد الأوربي: وقع عليها الدول المؤسسة



ينجز العمل على الخريطة ويعاد مع أوراق الإجابة

صفحة 8 من 8

الجديد و الحصري فقط على موقع الأستاذ Lotphilosophie
sites.google.com/site/lotphilosophie

على المترشح أن يختار أحد الموضوعين التاليين

الموضوع الأول

التاريخ

الجزء الأول: (06 نقاط)

« كلما ابتعدنا عن نهاية الحرب ظهرت في منتهى الوضوح القيادتان الأساسيتان للسياسة الدولية لما بعد الحرب... الكتلة الإمبريالية المناهضة للديمقراطية، والكتلة الديمقراطية المناهضة للإمبريالية. فالولايات المتحدة هي القوة الأساسية المتزعمة للكتلة الإمبريالية... وتدعم هذه الكتلة بلدان مالكة لمستعمرات، كما تدعمها بلدان ذات أنظمة رجعية مناهضة للديمقراطية، مثل تركيا واليونان، ومدعومة كذلك من قبل بلدان تابعة سياسيا واقتصاديا للولايات المتحدة مثلا الشرق الأوسط وأمريكا الجنوبية... وتكوّن القوى المناهضة للإمبريالية والفاشية الكتلة الأخرى التي أساسها الاتحاد السوفيتي وبلدان الديمقراطيات الجديدة... مثلا رومانيا والمجر وفنلندا... تركز الكتلة المناهضة للإمبريالية في كل البلدان على الحركة العمالية والديمقراطية وعلى الأحزاب الشيوعية وعلى المقاومين في حركات التحرير الوطني بالبلدان المستعمرة... »

أ. فونتين: في تاريخ الحرب الباردة، منشورات فايار، 1967-ص: 211

1- اشرح المصطلحات التالية مع الرجوع إلى النص:

الكتلة الإمبريالية - الكتلة الديمقراطية - أنظمة رجعية - حركات التحرير الوطني.

2- عرف بالشخصيات التالية:

جمال عبد الناصر - أحمد سوكارنو - أندري جدانوف - هاري ترومان.

3- صنف الدول الواردة في النص حسب انتمائها إلى الكتلة الإمبريالية والكتلة الديمقراطية:

تركيا - اليونان - رومانيا - المجر.

4- اذكر الحدث أو تاريخ الحدث:

- 1947/09/22.

- الانتهاء من إقامة جدار برلين.

- من 05 إلى 09 سبتمبر 1973.

- وصول غورباتشوف إلى الحكم.

الجزء الثاني: (04 نقاط)

رغم المآسي والآلام التي خلفتها مجازر 08 ماي 1945 بالنسبة للشعب الجزائري والحركة الوطنية غير أنها في نفس الوقت مثلت القاعدة الصلبة التي انطلقت منها فكرة الكفاح المسلح.

المطلوب: انطلاقا من الفقرة، واعتمادا على ما درست. أكتب مقالا تاريخيا تجيب فيه على:

1- انعكاسات هذه الأحداث الدامية على مسار الحركة الوطنية.

2- موقف الاستعمار من التطور الحاصل في الحركة الوطنية.

الجغرافيا

الجزء الأول: (06 نقاط)

كان من المفروض أن يفضي تكوّن حركة العولمة المالية الأولى التي حدثت بين 1840-1914 وسمحت بنقل كميات ضخمة من رؤوس الأموال إلى بلدان العالم الجديد، وكانت عاملا محفزا للتنمية، فإن العولمة المالية الحالية تبقى شأننا شمال شمال... فبلدان الجنوب لا تستفيد إلا بقدر ضعيف من هذه الحركة وهي في المقابل تتضرر مما يواكب هذه العولمة من تقلبات وعدم استقرار نقدي، كما أن الأزمات الدورية التي تتعرض لها تبعد عنها المستثمرين الذين لا يقرضون إلا عددا محدودا منها. ففي سنة 2002 قلّت نسبة رؤوس الأموال المستثمرة في البلدان الصاعدة عن ربع الاستثمارات التي استقطبتها الولايات المتحدة الأمريكية.

المصدر : سندر امواتي مجلة alternatives économiques عدد 2003/219

1- اشرح المصطلحات التالية مع الرجوع إلى النص:

رؤوس الأموال - للتنمية - العولمة - الاستثمارات.

2- اذكر 5 دول صاعدة.

3- إليك معطيات إحصائية حول تطور رصيد الاستثمار الأجنبي المباشر في العالم. (مليار دولار).

- سنة 1980: 601 مليار دولار - سنة 1990: 1785 مليار دولار

- سنة 2002: 1723 مليار دولار - سنة 2004: 9732 مليار دولار.

- علق على هذه المعطيات.

الجزء الثاني: (04 نقاط)

تعتبر آسيا الشرقية والجنوبية الشرقية قوة ديموغرافية وفضاء قويا للنمو الاقتصادي، تمّ فيها تنظيم الشبكات الكبرى للمبادلات على المستوى العالمي.

المطلوب: انطلاقا من الفكرة، واعتمادا على ما درست. أكتب مقالا جغرافيا تجيب فيه على:

1- استثمار العنصر البشري في تطوير النمو الاقتصادي.

2- مكانة المنطقة في الاقتصاد العالمي.

الموضوع الثاني التاريخ

الجزء الأول: (06 نقاط)

« عرفت شوارع العاصمة والعديد من المدن الجزائرية الأخرى يوم 11/12/1960 نزول الشعب الجزائري في مظاهرات للإعلان عن رغبته في نيل الاستقلال وتدعيمه المطلق للكفاح المسلح، فكان ذلك بمثابة البركان الشامل الناتج الذي نسف وهم الاستعمار في فصل الشعب عن جبهة التحرير الوطني. كما يمثل هذا اليوم محطة بارزة في تاريخنا المعاصر، ومنعظفا حاسما ألغيت فيه كل الأفكار والمفاهيم التي كانت توهم بخضوع الشعب الجزائري للأمر الواقع وكذا بقبوله للاندماج...»

كتاب التاريخ السنة الثالثة من التعليم الثانوي - ص: 202.

1- اشرح المصطلحات التالية مع الرجوع إلى النص:

الاستقلال - للكفاح المسلح - جبهة التحرير الوطني - للاندماج.

2- عرف الشخصيات التالية:

فرحات عباس - بن يوسف بن خدة - مصطفى بن بولعيد - العربي بن مهيدي.

3- اذكر الحدث أو تاريخ الحدث:

- مؤتمر الصومام

- 19 سبتمبر 1958

- سلم الشجعان

- 19 مارس 1962

الجزء الثاني: (04 نقاط)

كان ظهور تجمع حركة عدم الانحياز في أوائل الستينات محطة هامة على طريق البحث عن فلسفة سياسية للعالم الثالث في إطار النسق الدولي العالمي.

المطلوب: انطلاقا من الفكرة، واعتمادا على ما درست. أكتب مقالا تاريخيا تجيب فيه على:

1- ظروف نشأة حركة عدم الانحياز.

2- دورها في قضايا التحرر.

الجغرافيا

الجزء الأول: (06 نقاط)

رغم الانقسام والانهيار الذي أصابها أثناء الحرب العالمية الثانية ، تمكنت أوروبا من استعادة قوتها ووحدتها، بداية بتأسيس سوق مشتركة تضم 06 دول أعضاء سنة 1957 وصولا إلى إتحاد أوروبي يضم 27 دولة سنة 2007 . قد أدى انضمام أعضاء آخرين إلى الإتحاد والنمو الاقتصادي المتزايد بسبب توحيد السوق الأوروبية إلى مضاعفة الوزن الاقتصادي للمجموعة في ظرف 40 سنة، يتبنى الإتحاد الأوروبي في الوقت الراهن مشروعا طموحا للاندماج الاقتصادي والسياسي ويواصل مواجهة تحديات جديدة.

الكتاب المدرسي السنة 3 ثانوي صفحة 63.

1 - اشرح المصطلحات التالية مع الرجوع إلى النص:

سوق مشتركة - إتحاد أوروبي - النمو الاقتصادي - للاندماج الاقتصادي.

2 - اذكر الدول المؤسسة للمجموعة الاقتصادية الأوروبية (الاتحاد الأوربي).

3 - إليك معطيات إحصائية حول كمية الإنتاج الزراعي ونسبة المساهمة العالمية لدول الإتحاد

الأوروبي:

- القمح 99 مليون طن . نسبة المساهمة العالمية 17.7 %.

- الشعير 55 مليون طن. نسبة المساهمة العالمية 38.9 %.

- البطاطا 60 مليون طن. نسبة المساهمة العالمية 19 % .

- البنجر السكري 121.5 مليون طن. نسبة المساهمة العالمية 52.7 %.

المصدر : أورسنات منظمة الأغذية والزراعة-2003.

- علق على هذه المعطيات.

الجزء الثاني: (04 نقاط)

يتسم المجال العالمي بتفاوت واضح في التقدم الاقتصادي والاجتماعي ، و بتركيبة ثنائية شمال متقدم وجنوب متخلف .

المطلوب: انطلاقا من الفكرة، واعتمادا على ما درست. أكتب مقالا جغرافيا تجيب فيه على:

1 - أسباب التفاوت بين العالمين .

2 - المعايير الاقتصادية والاجتماعية المعتمدة في التصنيف .

العلامة		عناصر الإجابة	محاور الموضوع
المجموع	مجزأة		
الموضوع الأول			
التاريخ			
		الجزء الأول: (6 نقاط)	العرض
		1- شرح ما تحته خط:	
	0.50	* الكتلة الإمبريالية : مجموعة الدول الرأسمالية الغربية التي تدور في فلك الولايات المتحدة الأمريكية	
06	0.50	* الكتلة الديمقراطية :مجموعة الدول الاشتراكية التي تدور في فلك الاتحاد السوفيتي	
	0.50	* أنظمة رجعية : هي أنظمة سياسية عميلة نصبتها الو.م.أ في كل من تركيا واليونان. أو هي أنظمة عميلة نصبها الاستعمار في دول الجنوب تعمل على خدمة مصالحه.	
	0.50	* حركات التحرير الوطني : رد فعل شعبي وطني مؤطر من مجموعة التنظيمات السياسية ، هدفه التخلص من الاستعمار بمختلف أشكاله.	
		2- <u>التعريف بالشخصيات :</u>	
	0.50	* جمال عبد الناصر : من قادة الضباط الأحرار لثورة 23جويلية 1952 ورئيس جمهورية مصر العربية من 1954 إلى 1970، مؤمم قناة السويس وأحد أقطاب حركة عدم الانحياز	
	0.50	* أحمد سوكارنو : زعيم سياسي اندونيسي ، قاد كفاح الشعب الاندونيسي نحو الاستقلال ، ومن أشهر زعماء حركة عدم الانحياز	
	0.50	* أندري جدانوف : عضو اللجنة المركزية للحزب الشيوعي السوفيتي، صاحب نظرية انقسام العالم إلى كتلتين ، كلفه ستالين بالرد على نظيره الأمريكي ترومان وبعث منظمة الكومنفرم 1947.	
	0.50	* هاري ترومان : رئيس الولايات المتحدة الأمريكية من 1945 إلى 1953. أمر باستخدام القنبلة الذرية ضد اليابان أوت 1945. تميزت فترة حكمه بالتوتر بين الشرق والغرب ومساندة الكيان الصهيوني.	
	4×0.25	3- <u>التوقيع على الخريطة :</u>	

75

الإجابة النموذجية و سلم التنقيط

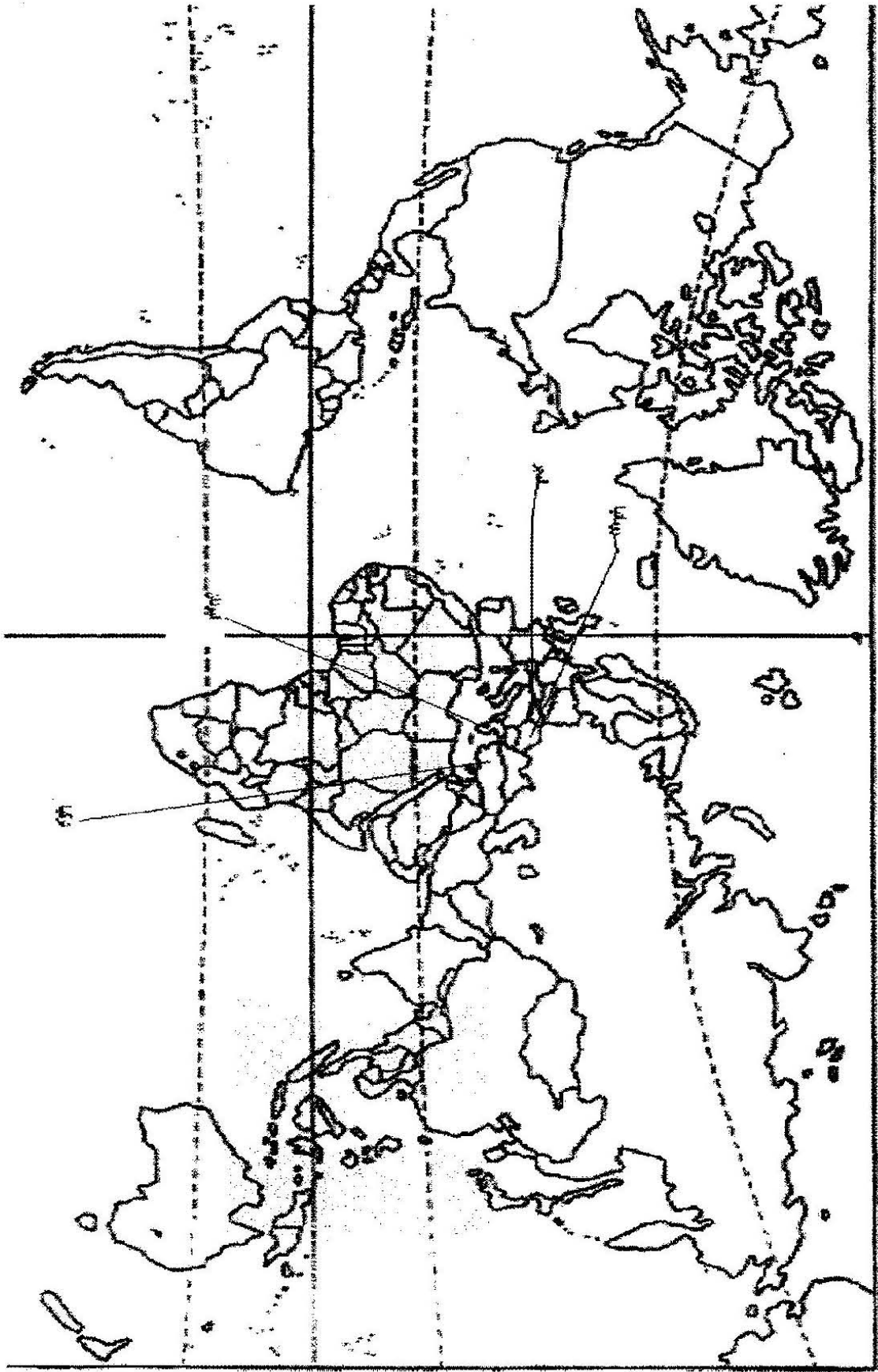
المدة : 04 ساعات ونصف
دورة: جوان 2010

امتحان شهادة البكالوريا
الشعبة : آداب وفلسفة

الإجابة النموذجية
اختبار في مادة: التاريخ والجغرافيا

العلامة		عناصر الإجابة	محاور الموضوع
مجموع	مجزأة		
		4- تكملة الجدول	
	0.25	- 1947/09/22 : بعث مبدأ جدانوف (الكومنفورم)	
	0.25	- 13 أوت 1961 : الانتهاء من إقامة جدار برلين	
	0.25	- 5 إلى 9/09/1973: المؤتمر الرابع لحركة عدم الانحياز المنعقد بالجزائر	
	0.25	- 11 مارس 1985 : وصول غورباتشوف إلى الحكم	
		الجزء الثاني: (4 نقاط)	
	0.5	مجازر 8 ماي 1945 وانعكاساتها على تطور نشاط الحركة الوطنية من النضال السياسي إلى الكفاح المسلح.	المقدمة
		1- انعكاسات الأحداث الدامية على مسار الحركة الوطنية:	العرض
04.00	0.50	* تأكد الحركة الوطنية من عمق النضال السياسي.	
	0.50	* إعادة بناء الحركة الوطنية مارس 1946.	
	0.50	* إنشاء المنظمة الخاصة 15/02/1947.	
		2- موقف الاستعمار الفرنسي من التطور الحاصل في الحركة الوطنية:	
	0.50	- صدور أمرية 7 مارس 1946 (السماح بعودة النشاط السياسي، وإطلاق سراح المعتقلين السياسيين).	
	0.50	- دستور 20/09/1947.	
	0.25	- تنظيم انتخابات 1948 وتزويرها.	
	0.25	- سياسة القمع والاضطهاد (ملاحقة أعضاء المنظمة الخاصة بعد اكتشافها). سنة 1953.	
	0.50	بقدر ما كانت مجازر 8 ماي 1945 نعمة على الشعب الجزائري ، كانت نقطة التحول نحو الكفاح المسلح.	الخاتمة

76



دنيا

صفحة 3 من 13

77

الإجابة النموذجية و سلم التنقيط

المدة : 04 ساعات ونصف
دورة: جوان 2010

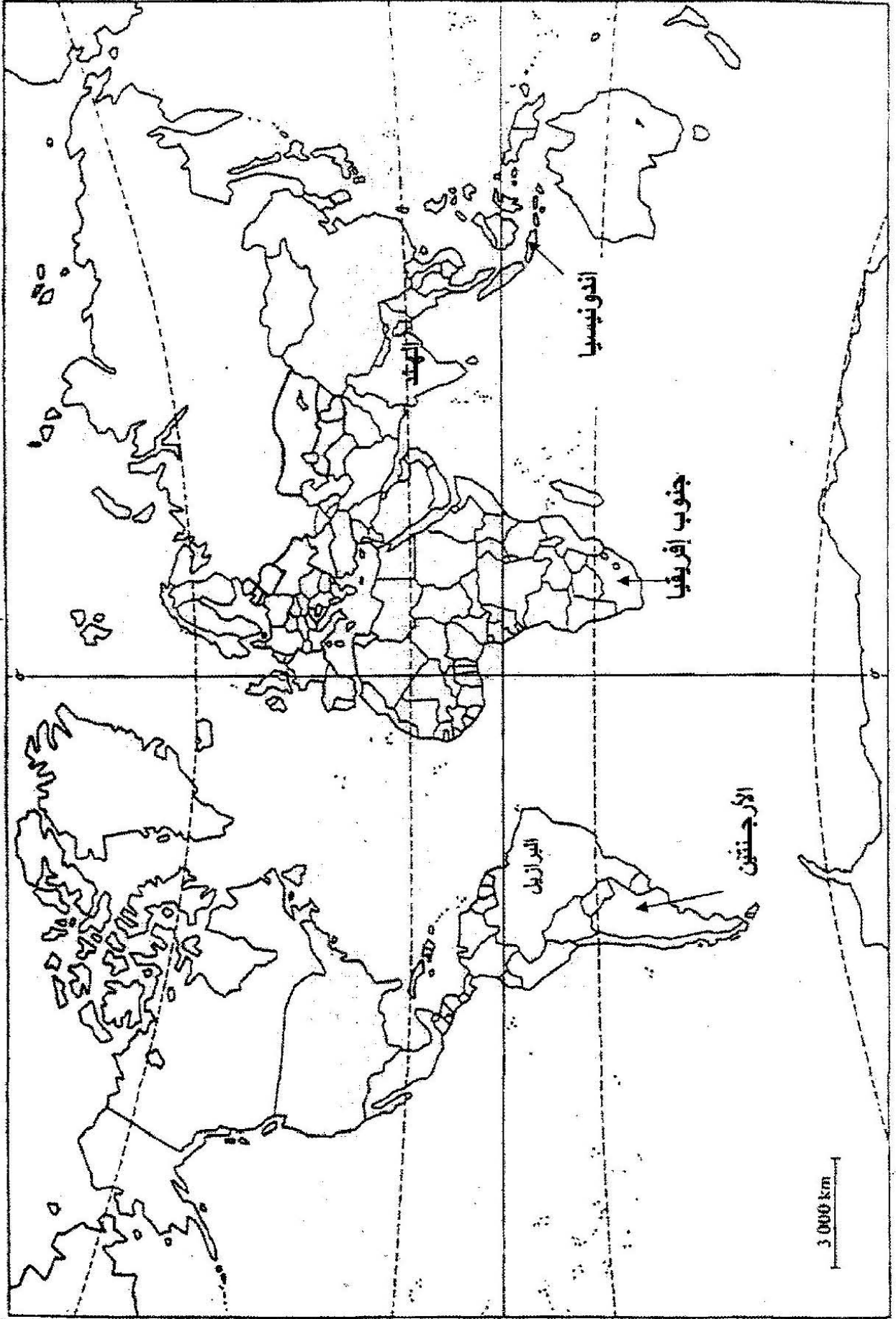
امتحان شهادة البكالوريا
الشعبة : آداب وفلسفة

الإجابة النموذجية
اختبار في مادة: التاريخ والجغرافيا

العلامة		عناصر الإجابة	محاور الموضوع
المجموع	مجزأة		

الجغرافيا			
			الجزء الأول: (06 نقاط)
			1- <u>شرح ما تحته خط في النص:</u>
0.75			* رؤوس الأموال: الإمكانيات المالية المتوفرة في شكل مدخرات ذاتية وقروض
0.75			بالإضافة إلى الوسائل المادية كالعقارات والمواد الأولية.
0.75			* التنمية : مفهوم عام يدل على ما يطرأ من تطور في بلد معين في مختلف الميادين.
0.75			* العولمة : حركة إدماج مختلف أجزاء العالم بتأثير تسارع المبادلات وازدهار التقنيات الحديثة للاتصال والنقل ، وتوجه عالمي نحو إزالة الحواجز الجمركية والإدارية.
0.75			* الاستثمارات : عملية توظيف رؤوس الأموال في المشاريع الاقتصادية لتحقيق الربح.
06	5×0.25		2 - <u>التوقيع على الخريطة</u> 5 دول جديدة صاعدة (دون للتقيد بما ورد في الخريطة)
			3- <u>الرسم البياني:</u>
	01.25		* الانجاز.
	0.25		* المقياس.
	0.25		* العنوان.

خريطة العالم : 5 دول جديدة صاعدة



80

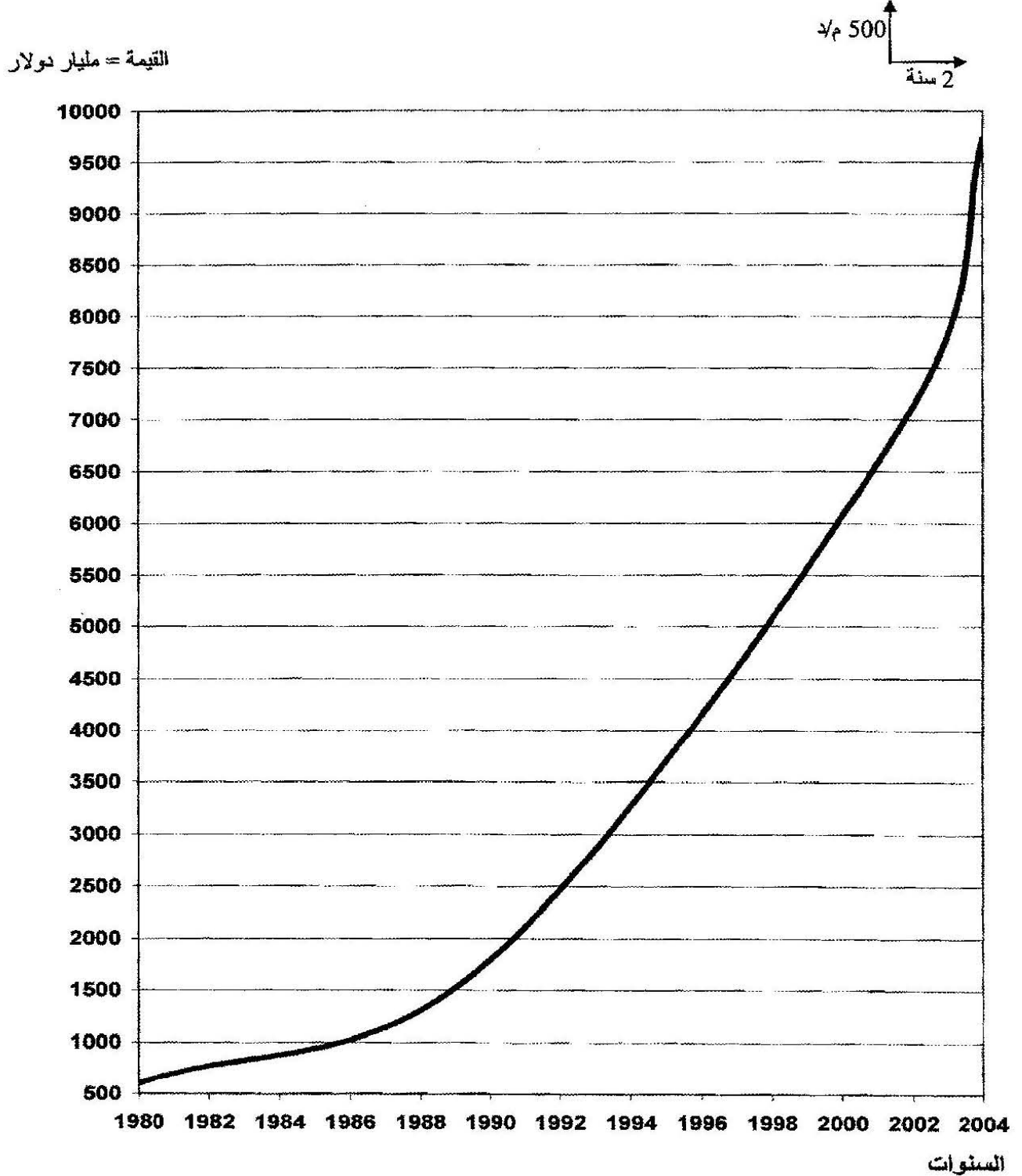
الإجابة النموذجية و سلم التقط

المدة : 04 ساعات ونصف
دورة: جوان 2010

امتحان شهادة البكالوريا
الشعبة : آداب وفلسفة

الإجابة النموذجية
اختبار في مادة: التاريخ والجغرافيا

العلامة		عناصر الإجابة	محاور الموضوع
المجموع	مجزأة		



منحنى بياني يمثل تطور رصيد الاستثمار الأجنبي المباشر في العالم

81

صفحة 7 من 13

العلامة		عناصر الإجابة	محاور الموضوع
المجموع	مجزأة		
الموضوع الثاني			
التاريخ			
للجزء الأول: (06 نقاط)			
		1* شرح ما تحته خط في النص:	
	4×0.50	-الاستقلال: طرد المستعمر وتحرير البلاد من كافة أشكال الهيمنة والتسلط والاستغلال.	
		-الكفاح المسلح: حرب تحريرية يستعمل فيها السلاح كوسيلة لتحقيق الاستقلال.	
		-جبهة التحرير الوطني : تنظيم سياسي ظهر 1954 مواكب لاندلاع الثورة،مفتوح لكل القوى التي تؤمن بالاستقلال كهدف والسلاح كوسيلة لتحقيق ذلك	
		-الاندماج:سياسة اعتمدها فرنسا من أجل كسب فئة النخبة بمنحها الجنسية الفرنسية	
		2* <u>تعريف الشخصيات</u>	
	0.50	- فرحات عباس : زعيم الاتجاه الإدماجي ،صاحب بيان فيفري 1943 التحق بالثورة سنة 1956 ،أول رئيس للحكومة الجزائرية المؤقتة 1958،رئيس الجمعية التأسيسية 1962	
	0.50	- بن يوسف بن خدة: مناضل في صفوف حركة الانتصار،عضو في المجلس الوطني للثورة وفي لجنة التنسيق والتنفيذ،وزير الشؤون الاجتماعية في الحكومة المؤقتة الأولى ثم رئيسا لها 1961	
06	0.50	- مصطفى بن بولعيد: مناضل في صفوف حزب الشعب ،من مؤسسي اللجنة الثورية للوحدة والعمل ،أشرف على التنظيم الأولي للثورة ،أعتقل سنة 1955 ،فر من السجن وواصل جهاده إلى أن أستشهد في 22/03/1956	
	0.50	- العربي بن مهيدي: احد البارزين في لجنة الست ،من مفجري الثورة وقائد الولاية الخامسة من مهندسي مؤتمر الصومام 56، أستشهد تحت التعذيب.	

الإجابة النموذجية و سلم التنقيط

المدة : 04 ساعات ونصف

امتحان شهادة البكالوريا

الإجابة النموذجية

دورة: جوان 2010

الشعبة : آداب وفلسفة

اختبار في مادة: التاريخ والجغرافيا

العلامة	عناصر الإجابة	محاور
		الموضوع
		3*تكملة الجدول :
		التاريخ
0.50	مؤتمر الصومام	1956/08/20
0.50	تأسيس الحكومة المؤقتة للجمهورية الجزائرية	1958/09/19
0.50	سلم الشجعان	1958/10/23
0.50	عيد النصر	1962/03/19
		الجزء الثاني: (04 نقاط)
0.50	انقسام العالم إلى كتلتين متصارعتين حول مناطق النفوذ ، عجل بظهور حركة عدم الانحياز	المقدمة
		1- ظروف نشأة حركة عدم الانحياز:
0.50	- اشتداد الصراع بين المعسكرين في إطار الحرب الباردة.	
0.50	- إقحام بلدان العالم الثالث في الصراع.	
0.25	- التقارب والتضامن الأفرو آسيوي (مؤتمر باندونغ 1955 بأندونيسيا).	العرض
0.50	- نشاط الحركات التحررية واستقلال العديد من الشعوب (سوريا ولبنان 1946 الهند وباكستان 1947).	
		2- دورها في قضايا التحرر :
0.50	- مناصرة حركات التحرر ودعمها في المحافل الدولية.	
0.25	- التنديد بالتدخل الأمريكي في الهند الصينية والسياسة العدائية الأمريكية تجاه كوبا (الحصار الاقتصادي).	
0.50	- مساعدة الشعب الفلسطيني والتكديف بالتميز العنصري (جنوب أفريقيا).	
0.50	استطاعت حركة عدم الانحياز أن تلعب دورا رائدا في دفع عجلة التحرر وتخفيف حدة التوتر بين المعسكرين.	الخاتمة

83

الإجابة النموذجية و سلم التنقيط

المدة : 04 ساعات ونصف
دورة: جوان 2010

امتحان شهادة البكالوريا
الشعبية : آداب وفلسفة

الإجابة النموذجية
اختبار في مادة: التاريخ والجغرافيا

العلامة		عناصر الإجابة	محاو الموضوع
المجموع	مجزأة		
06		الجغرافيا	
		الجزء الأول: (06 نقاط)	
	0.50	1 شرح ما تحته خط في النص : - سوق مشتركة : فضاء مخصص للمبادلات التجارية والتعاملات الاقتصادية بين الدول الأعضاء .	
	0.75	- اتحاد أوروبي : كتل اقتصادي سياسي ثقافي اجتماعي، ظهر بموجب معاهدة روما 1957 ويبلغ تعداد دوله حاليا 27 دولة أوروبية.	
	0.75	- النمو الاقتصادي : تحقيق نسبة تطور معتبرة في كافة القطاعات الاقتصادية وتقاس بجملة من المؤشرات، وهو الهدف الأسمى لكل دول العالم	
	0.75	- الاندماج الاقتصادي : سياسة تبنتها مجموعة دول الإتحاد الأوروبي بغرض تحقيق تكامل شامل.	
	6x0.25	2 التوقيع على الخريطة : 3 * تمثيل نسب المساهمة :	
	01	- الانجاز	
	0.25	- المقياس	
	0.25	- العنوان	
0.25	- المفتاح		

84

الإجابة النموذجية و سلم التنقيط

المدة : 04 ساعات ونصف
دورة: جوان 2010

امتحان شهادة البكالوريا
الشعبة : آداب وفلسفة

الإجابة النموذجية
اختبار في مادة: التاريخ والجغرافيا

العلامة		عناصر الإجابة	محدور الموضوع
المجموع	مجزأة		
		الجزء الثاني: (04 نقاط)	
	0.50	العلاقة الأمتكافئة بين الشمال المتطور المهيمن والجنوب المتخلف التابع	المقدمة
04	0.50	<u>1-أسباب التفاوت بين العالمين:</u>	العرض
	0.50	- الهيمنة الاستعمارية لفترات طويلة.	
	0.50	- التحكم في التكنولوجيا وتشجيع البحث العلمي.	
	0.50	- التبعية الاقتصادية والهيمنة السياسية.	
	0.50	- الاستقرار السياسي وحسن استثمار الطاقات البشرية والإمكانات الطبيعية.	
	0.50	<u>2- المعايير الاقتصادية والاجتماعية المعتمدة في التصنيف:</u>	
	0.25	- الناتج الوطني الخام .	
	0.25	- الناتج الداخلي الخام.	
	0.25	- الدخل الفردي.	
	0.25	- الخدمات العامة(التعليم ، الصحة ...).	
	0.50	استمرار اتساع الهوة بين الشمال المتقدم والجنوب المتخلف.	الخاتمة

85

الإجابة النموذجية و سلم التنقيط

المدة : 04 ساعات ونصف

امتحان شهادة البكالوريا

الإجابة النموذجية

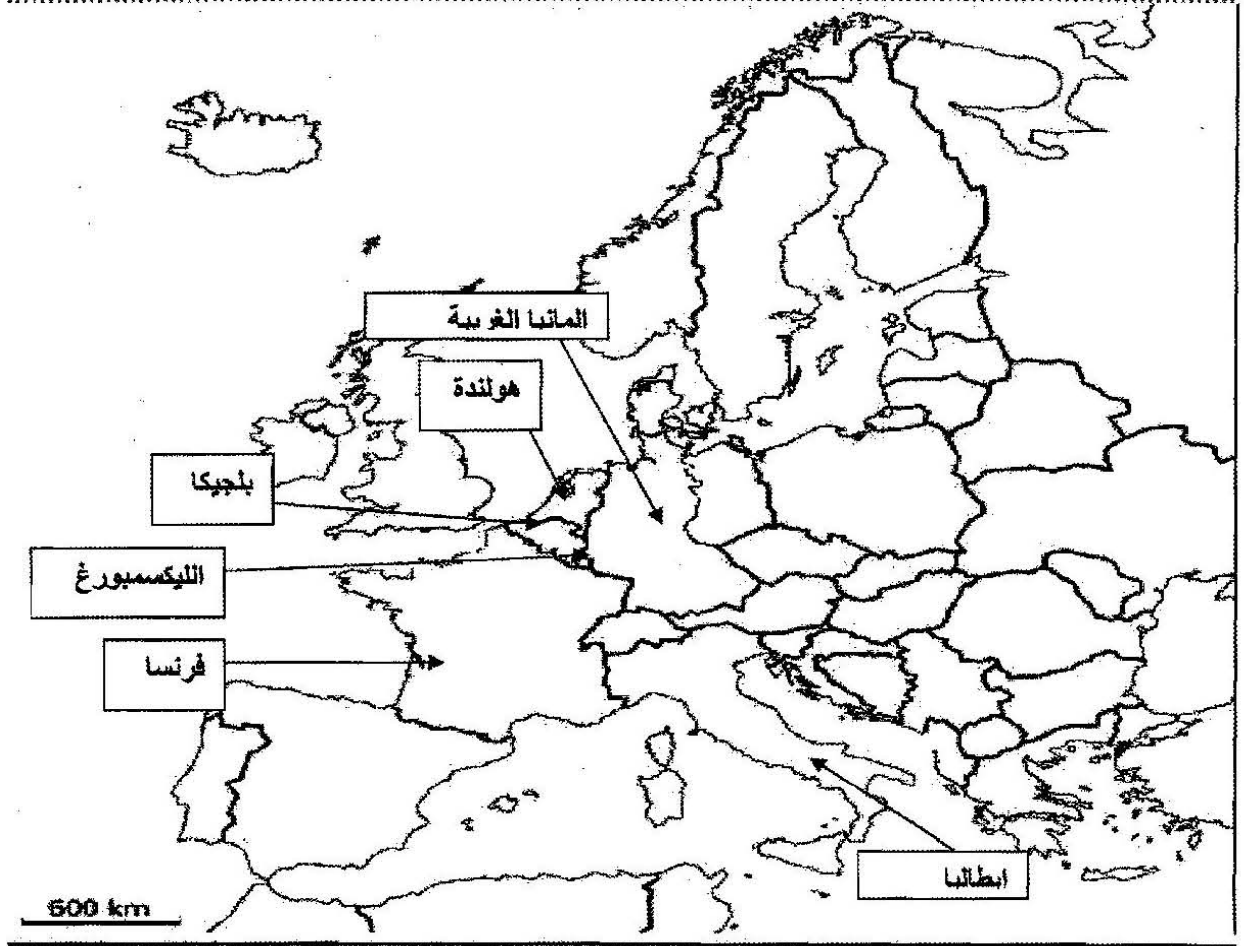
دورة: جوان 2010

الشعبة : آداب وفلسفة

اختبار في مادة: التاريخ والجغرافيا

العلامة		عناصر الإجابة	محاور الموضوع
المجموع	مجزأة		

الدول المؤسسة للاتحاد الأوروبي



86

الإجابة النموذجية و سلم التنقيط

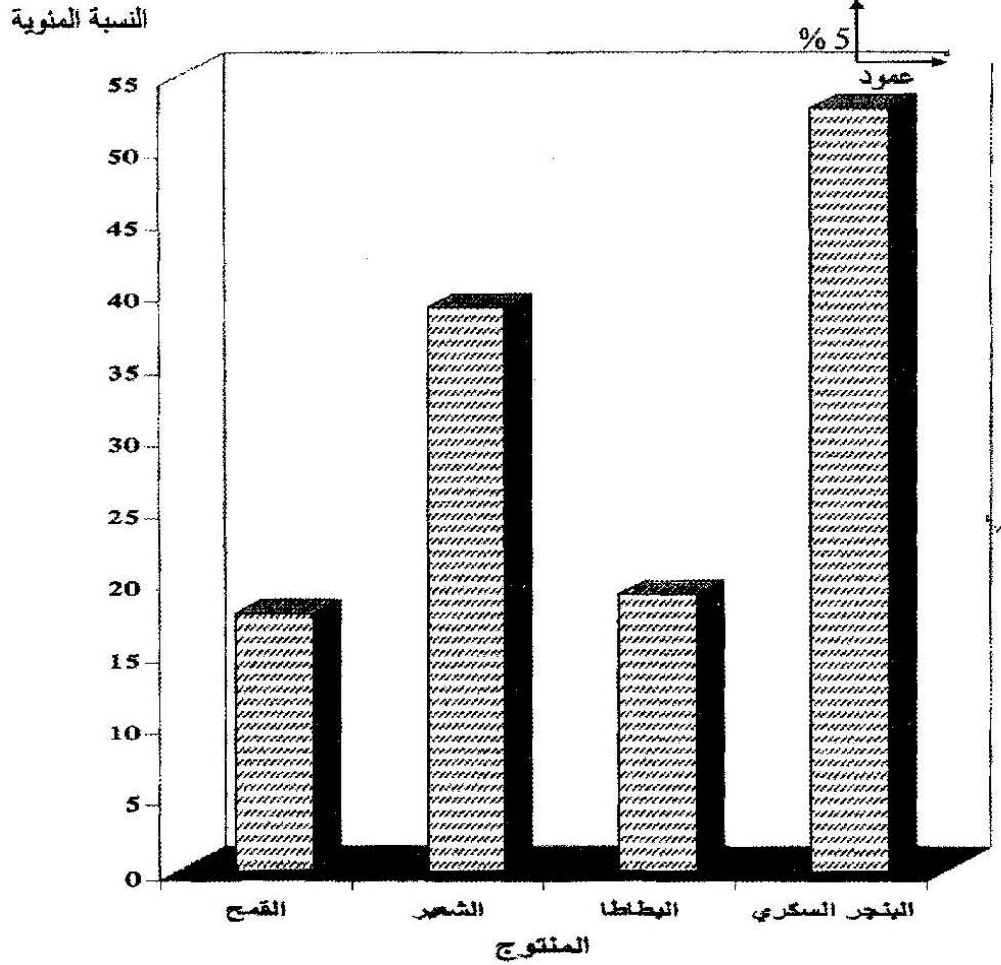
المدة : 04 ساعات ونصف
دورة: جوان 2010

امتحان شهادة البكالوريا
الشعبة : آداب وفلسفة

الإجابة النموذجية
اختبار في مادة: التاريخ والجغرافيا

العلامة		عناصر الإجابة	محاور الموضوع
المجموع	مجزأة		

أعمدة بيانية نسبة المساهمة العالمية لدول الاتحاد الأوربي



87

العلامة		عناصر الإجابة الموضوع المكيف	محاور الموضوع
المجموع	مجزأة		
الموضوع الأول			
التاريخ			
		الجزء الأول: (06 نقاط)	العرض
		1- شرح المصطلحات:	
06	0.50	• الكتلة الإمبريالية: مجموعة الدول الرأسمالية الغربية التي تدور في فلك الولايات المتحدة الأمريكية	
	0.50	• الكتلة الديمقراطية: مجموعة الدول الاشتراكية التي تدور في فلك الاتحاد السوفيتي.	
	0.50	• أنظمة رجعية : هي أنظمة سياسية عميلة نصبها اليوم.أ في كل من تركيا واليونان. أو هي أنظمة عميلة نصبها الاستعمار في دول الجنوب تعمل على خدمة مصالحه.	
	0.50	• حركات التحرير الوطني: رد فعل شعبي وطني مؤطر من مجموعة التنظيمات السياسية ، هدفه التخلص من الاستعمار بمختلف أشكاله.	
		2- التعريف بالشخصيات :	
	0.50	• جمال عبد الناصر : من قادة الضباط الأحرار لثورة 23جويلية 1952 ورئيس جمهورية مصر العربية من 1954 إلى 1970، مؤمم قناة السويس وأحد أقطاب حركة عدم الانحياز.	
	0.50	• أحمد سوكارنو : زعيم سياسي اندونيسي، قاد كفاح الشعب الاندونيسي نحو الاستقلال ، ومن أشهر زعماء حركة عدم الانحياز	
	0.50	• أندري جدانوف: عضو اللجنة المركزية للحزب الشيوعي السوفيتي، صاحب نظرية انقسام العالم إلى كتلتين، كلفه ستالين بالرد على نظيره الأمريكي ترومان وبعث منظمة الكومنفرم 1947.	
	0.50	• هاري ترومان : رئيس الولايات المتحدة الأمريكية من 1945 إلى 1953 . أمر باستخدام القنبلة الذرية ضد اليابان أوت 1945. تميزت فترة حكمه بالتوتر بين الشرق والغرب ومساندة الكيان الصهيوني.	
		3- تصنيف الدول :	
	0.50	- الكتلة الإمبريالية : الولايات المتحدة . تركيا واليونان	
	0.50	- الكتلة الديمقراطية : الاتحاد السوفيتي. رومانيا. المجر وبولندا	

الإجابة النموذجية و سلم التقييم

المدة : 04 ساعات ونصف
دورة: جوان 2010

الإجابة النموذجية لموضوع مقترح لامتحان شهادة البكالوريا
اختبار في مادة: التاريخ والجغرافيا
الشعبة : آداب وفلسفة

العلامة		عناصر الإجابة	محاور الموضوع
مجموع	مجزأة		
		4- <u>الحدث أو تاريخ الحدث:</u> - 1947/09/22: بعث مبدأ جدانوف (الكومنفورم) - 13 أوت 1961: الانتهاء من إقامة جدار برلين - 5 إلى 9/09/1973 : المؤتمر الرابع لحركة عدم الانحياز المنعقد بالجزائر - 11 مارس 1985 : وصول غورباتشوف إلى الحكم	
		<u>الجزء الثاني: (04 نقاط)</u>	
	0.25	مجازر 8ماي 1945 وانعكاساتها على تطور نشاط الحركة الوطنية من النضال السياسي إلى الكفاح المسلح.	المقدمة
	0.25	1- <u>انعكاسات الأحداث الدامية على مسار الحركة الوطنية:</u>	العرض
	0.25	* تأكد الحركة الوطنية من عقم النضال السياسي.	
	0.25	* إعادة بناء الحركة الوطنية مارس 1946.	
	0.25	* إنشاء المنظمة الخاصة 15/02/1947.	
		2- <u>موقف الاستعمار الفرنسي من التطور الحاصل في الحركة الوطنية:</u>	
	0.50	- صدور أمرية 7 مارس 1946 (السماح بعودة النشاط السياسي، وإطلاق سراح المعتقلين السياسيين).	
	0.50	- دستور 1947/09/20.	
	0.25	- تنظيم انتخابات 1948 وتزويرها.	
	0.25	- سياسة القمع والاضطهاد (ملاحقة أعضاء المنظمة الخاصة بعد اكتشافها).	
	0.50	بقدر ما كانت مجازر 8 ماي 1945 نقمة على الشعب الجزائري ،كانت نقطة التحول نحو الكفاح المسلح.	الخاتمة
04.00			

الإجابة النموذجية و سلم التتقيط

المدة : 04 ساعات ونصف
دورة: جوان 2010

الإجابة النموذجية لموضوع مقترح لامتحان شهادة البكالوريا
اختبار في مادة: التاريخ والجغرافيا
الشعبة : آداب وفلسفة

العلامة		عناصر الإجابة	محاور الموضوع
المجموع	مجزأة		
الجغرافيا			
الجزء الأول: (06 نقاط)			
1- شرح المصطلحات:			
0.75		* رؤوس الأموال : الإمكانيات المالية المتوفرة في شكل مدخرات ذاتية وقروض بالإضافة إلى الوسائل المادية كالعقارات والمواد الأولية.	
0.75		* التنمية : مفهوم عام يدل على ما يطرأ من تطور في بلد معين في مختلف الميادين.	
0.75		* العولمة : حركة إدماج مختلف أجزاء العالم بتأثير تسارع المبادلات وازدهار التقنيات الحديثة للاتصال والنقل ، وتوجه عالمي نحو إزالة الحواجز الجمركية والإدارية.	
0.75		* الاستثمارات : عملية توظيف رؤوس الأموال في المشاريع الاقتصادية لتحقيق الربح.	
06	5×0.25	2- ذكر 5 دول جديدة صاعدة : البرازيل ، الأرجنتين ، جنوب إفريقيا، الهند ، اندونيسيا	
3- التعليق :			
0.75		- قفزة كبيرة في قيمة الاستثمارات بين 1980 إلى 1990 بلغت 1184 مليار/د.	
0.50		- أكثر من 9000 مليار دولار خلال 20 سنة.	
0.50		- تضاعف خلال 20 سنة إلى أكثر من 150 مرة .	
90			

موضوع	محاور	عناصر الإجابة	العلامة
-------	-------	---------------	---------

موضوع	محاور	عناصر الإجابة	العلامة
الموضوع الثاني			
التاريخ			
الجزء الأول: (06 نقاط)			
*1 شرح المصطلحات:			
4x0.50		-الاستقلال: طرد المستعمر وتحرير البلاد من كافة أشكال الهيمنة والتسلط والاستغلال. -الكفاح المسلح: حرب تحريرية يستعمل فيها السلاح كوسيلة لتحقيق الاستقلال. -جبهة التحرير الوطني : تنظيم سياسي ظهر 1954 مواكب لاندلاع الثورة،مفتوح لكل القوى التي تؤمن بالاستقلال كهدف والسلاح كوسيلة لتحقيق ذلك -الانماج: سياسة اعتمدها فرنسا من أجل كسب فئة الةنخبة بمنحها الجنسية الفرنسية	
0.50		*2 تعريف الشخصيات - فرحات عباس : زعيم الاتجاه الإنماجي مصاحب بيان فيفري 1943 التحق بالثورة سنة 1956 ،أول رئيس للحكومة الجزائرية المؤقتة 1958 برئيس الجمعية التأسيسية 1962	
0.50		- بن يوسف بن خدة: مناضل في صفوف حركة الانتصار،عضو في المجلس الوطني للثورة وفي لجنة التنسيق والتنفيذ،وزيرا للشؤون الاجتماعية في الحكومة المؤقتة الأولى ثم رئيسا لها 1961	06
0.50		- مصطفى بن بولعيد: مناضل في صفوف حزب الشعب ،من مؤسسي اللجنة الثورية للوحدة والعمل ،أشرف على التنظيم الأولي للثورة ،أعتقل سنة 1955 ،فر من السجن وواصل جهاده إلى أن أستشهد في 22/03/1956	
0.50		- العربي بن مهدي: احد البارزين في لجنة الست ،من مفجري الثورة وقائد الولاية الخامسة من مهندسي مؤتمر الصومام 56، استشهد تحت التعذيب.	

الإجابة النموذجية و سلم التنقيط

المدة : 04 ساعات ونصف
دورة: جوان 2010

الإجابة النموذجية لموضوع مقترح لامتحان شهادة البكالوريا
اختبار في مادة: التاريخ والجغرافيا الشعبة : آداب وفلسفة

العلامة		عناصر الإجابة	محاورة الموضوع
المجموع	مجزأة		
04		*3 الحدث أو تاريخ الحدث :	
		التاريخ	الحدث
	0.50	1956/08/20	مؤتمر الصومام
	0.50	1958/09/19	تأسيس الحكومة المؤقتة للجمهورية الجزائرية
	0.50	1958/10/23	سلم الشجعان
	0.50	1962/03/19	عيد النصر
		الجزء الثاني: (04 نقاط)	
	0.50	انقسام العالم إلى كتلتين متصارعتين حول مناطق النفوذ، عجل بظهور حركة عدم الانحياز	
	0.50	1- ظروف نشأة حركة عدم الانحياز:	
	0.50	- اشتداد الصراع بين المعسكرين في إطار الحرب الباردة.	
0.50	- إقحام بلدان العالم الثالث في الصراع.		
0.25	- التقارب والتضامن الأفرو آسيوي (مؤتمر باندونغ 1955 بأندونيسيا).		
0.50	- نشاط الحركات التحررية واستقلال العديد من الشعوب (سوريا ولبنان 1946 الهند وباكستان 1947).		
	2- دورها في قضايا التحرر :		
0.50	- مناصرة حركات التحرر ودعمها في المحافل الدولية.		
0.25	- التتديد بالتدخل الأمريكي في الهند الصينية والسياسة العدائية الأمريكية تجاه كويا (الحصار الاقتصادي).		
0.50	- مساعدة الشعب الفلسطيني والتتديد بالتميز العنصري (جنوب إفريقيا).		
0.50	استطاعت حركة عدم الانحياز أن تلعب دورا رائدا في نفع عجلة التحرر وتخفيف حدة التوتر بين المعسكرين.		

93

الإجابة النموذجية و سلم التنقيط

المدة : 04 ساعات ونصف
دورة: جوان 2010

الإجابة النموذجية لموضوع مقترح لامتحان شهادة البكالوريا
اختبار في مادة: التاريخ والجغرافيا
الشعبة : آداب وفلسفة

العلامة		عناصر الإجابة	محاور الموضوع
المجموع	مجزأة		
		الجغرافيا	
		الجزء الأول: (06 نقاط)	
		1 شرح المصطلحات:	
	0.50	- سوق مشتركة: فضاء مخصص للمبادلات التجارية والتعاملات الاقتصادية بين الدول الأعضاء.	
	0.75	- اتحاد أوروبي: كتل اقتصادي سياسي ثقافي اجتماعي، ظهر بموجب معاهدة روما 1957 و يبلغ تعداد دوله حاليا 27 دولة أوروبية.	
	0.50	- النمو الاقتصادي: تحقيق نسبة تطور معتبرة في كافة القطاعات الاقتصادية وتقاس بجملة من المؤشرات، وهو الهدف الأسمى لكل دول العالم	
06	0.50	- الاندماج الاقتصادي : سياسة تبنتها مجموعة دول الإتحاد الأوروبي بغرض تحقيق تكامل شامل.	
	6×0.25	2 الدول المؤسسة للإتحاد الأوربي : - بلجيكا، هولندا، لكسمبورج، فرنسا، إيطاليا، ألمانيا الغربية.	
		*3 التعليق :	
	0.75	- ارتفاع كمية الإنتاج.	
	0.75	- ارتفاع نسبة المساهمة العالمية.	
	0.75	- تحكم الإتحاد في الإنتاج والتسويق.	

94

الإجابة النموذجية و سلم التقييط

المدة : 04 ساعات ونصف
دورة: جوان 2010

الإجابة النموذجية لموضوع مقترح لامتحان شهادة البكالوريا
اختبار في مادة: التاريخ والجغرافيا الشعبة : آداب وفلسفة

العلامة		عناصر الإجابة	محاور الموضوع
المجموع	مجزأة		
		الجزء الثاني (4نقاط)	
	0.50	العلاقة الأمتكافئة بين الشمال المتطور المهيمن والجنوب المتخلف التابع	المقدمة
04	0.50	1-أسباب التفاوت بين العالمين:	العرض
	0.50	- الهيمنة الاستعمارية لفترات طويلة.	
	0.50	- التحكم في التكنولوجيا وتشجيع البحث العلمي.	
	0.50	- التبعية الاقتصادية والهيمنة السياسية.	
	0.50	- الاستقرار السياسي وحسن استثمار الطاقات البشرية والإمكانات الطبيعية.	
		2- <u>المعايير الاقتصادية والاجتماعية المعتمدة في التصنيف:</u>	
	0.25	- الناتج الوطني الخام .	
	0.25	- الناتج الداخلي الخام.	
	0.25	- الدخل الفردي.	
	0.25	- الخدمات العامة(التعليم ، الصحة ...).	
	0.50	استمرار اتساع الهوة بين الشمال المتقدم والجنوب المتخلف.	الخاتمة

95