

على المترشح أن يختار أحد الموضوعين التاليين:
الموضوع الأول

التاريخ :

الجزء الأول: (06 نقاط)

« ... إن اللجنة الثورية ليست بمنظمة ولا هي بحزب، و لا فريق على شاكلة المركزيين في ذلك الوقت، لقد كانت إسمها على مسمى "اللجنة الثورية للوحدة والعمل" كان هدفها إطلاق حركة رأي عام قادر على تحقيق تلاحم القاعدة النضالية للحيلولة دون وقفها في التحالف وراء هذا أو ذاك من الأطراف المتصارعة ... »

المرجع: محمد بوضياف / الجزائر إلى أين. ص 76

المطلوب:

- 1- عرّف المصطلحات التي تحتها خط.
- 2- عرّف بالشخصيات التالية: ديدوش مراد - هوشي منه - جورج مارشال.
- 3- أربط كل حدث بتاريخه:

التاريخ	الحدث
1949-04-04	هجوم الشمال القسنطيني
1955-08-20	مؤتمر باندونغ
1955-04-(24, 18)	تأسيس الحلف الأطلسي

- 4- على الخريطة المرفقة (شكل 01) وقّع الدول التي تأسست بها الأحلاف العسكرية التالية:
- جنوب شرق آسيا - بغداد - وارسو.

الجزء الثاني: (04 نقاط)

« ... إن الولايات المتحدة الأمريكية وحدها من بين دول العالم، تملك من المستوى الأخلاقي ومن الإمكانيات ما يكفي لخلق نظام دولي جديد ... إنه نظام دولي سلمي، يرفض ابتلاع الدول الكبرى لجاراتها الصغرى ... »

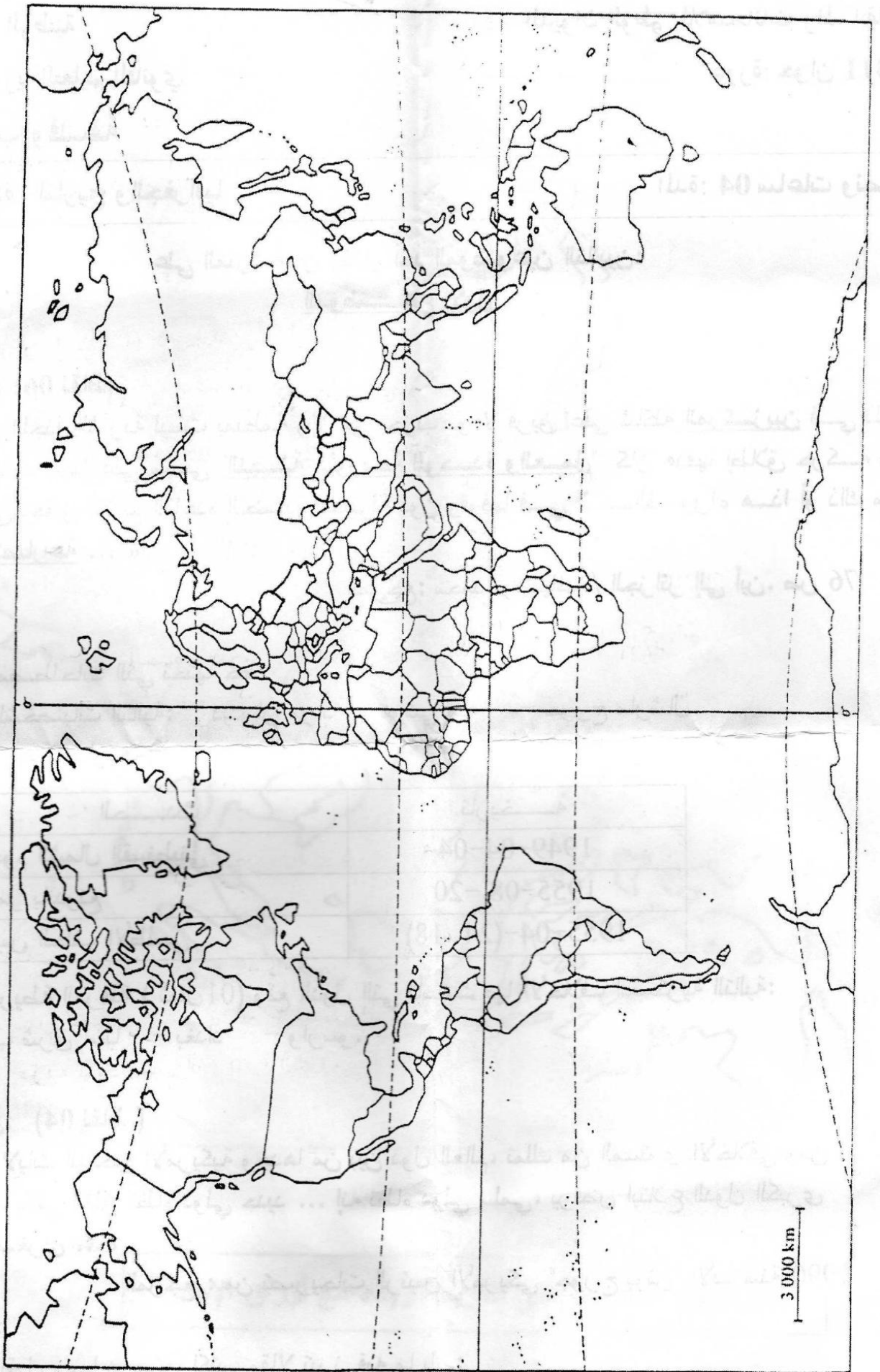
المرجع : من تصريحات الرئيس الأمريكي "جورج بوش" الأب سنة 1990

المطلوب :

انطلاقا من القول ومما درست، اكتب مقالا تبرز فيه ما يلي:

- 1- أهداف النظام الدولي الجديد.
- 2- مؤسساته الفاعلة.

خريطة العالم (شكل 01)



ينجز العمل على الخريطة وتعاد مع أوراق الإجابة

الجغرافيا :

الجزء الأول: (06 نقاط)

«... آسيا متعددة الأقطاب ... القطب الاقتصادي الأول هو اليابان الذي يشكل ثاني قوة اقتصادية في العالم يعتمد في نجاحه على قوة الشركات المتعددة الجنسيات ... ويتمثل القطب الثاني في التينيات التي استفادت من التحول التكنولوجي الياباني، وهي بذلك دول ذات دخل وطني مرتفع، وقوة تجارية ومراكز مالية هامة ...»

المرجع: الكتاب المدرسي/ جغرافيا للسنة الثالثة ثانوي/ ص 108

المطلوب :

1- عرّف المصطلحات التي تحتها خط.

2- على الخريطة المرفقة (شكل 02) وقّع دول التينيات.

3- إليك جدولاً يمثل الخمس دول الأولى المستهلكة للبتروول لسنة 2005

الدولة	الوم أ	الصين	اليابان	ألمانيا	الهند
الكمية /مليون ط	498	245	242	127	97

المرجع : صور اقتصادية للعالم 2005

- مملّ الجدول بأعمدة بيانية. بمقياس رسم : اسم ← 50 مليون طن

اسم ← دولة

الجزء الثاني: (04 نقاط)

تعتبر السهول الوسطى الأمريكية خزّانا للحبوب، وموطنا لتموين السكان بالألبان واللحوم.

المطلوب :

انطلاقا من العبارة ومما درست، اكتب مقالا تبرز فيه:

1- الخصائص الطبيعية والبشرية للسهول الوسطى الأمريكية.

2- تحليل توزيع المحاصيل الزراعية التالية: القمح - الذرة - القطن.





ينجز العمل المطلوب على الخريطة ويعاد مع أوراق الإجابة

الموضوع الثاني

التاريخ:

الجزء الأول: (06 نقاط)

«... يبقى استئناف الصراع بين المعسكرين باسم الحرب الباردة ، إحدى الظواهر التي طبعت العلاقات الدولية بقدر من التوتر والصدام على أكثر من صعيد ... ولعبت الولايات المتحدة الأمريكية والاتحاد السوفيتي في هذا الصراع، الدور القيادي... ممثلتان قطبية ثنائية متناقضة ومتصارعة... وعرف هذا الصراع وتيرة متغيرة من التصعيد الخطير أحيانا ، كما حدث في أزمت عديدة كأزمة: برلين - كوريا - الفيتنام - كوبا، وقد تخلل هذا الصراع بين المعسكرين فترات من التهدئة المؤقتة، مثل فترة مبادرة التعايش السلمي 1953-1956 أحيانا أخرى...»

المرجع : لويس شنايدر / العالم في القرن العشرين

المطلوب :

- 1- عرّف المصطلحات التي تحتها خط.
- 2- عرّف بالشخصيات التالية : كريم بلفاسم - الجنرال جياب - جون كندي.
- 3- أكمل جدول الأحداث التالي :

التاريخ	إشياء المنظمة الخاصة (OS)	الحدث
1989-12-04	1958-05-13

- 4- على الخريطة (شكل 03) وقّع المناطق العسكرية المحددة من طرف قيادة الثورة الجزائرية في اجتماع 10 أكتوبر 1954.

الجزء الثاني: (04 نقاط)

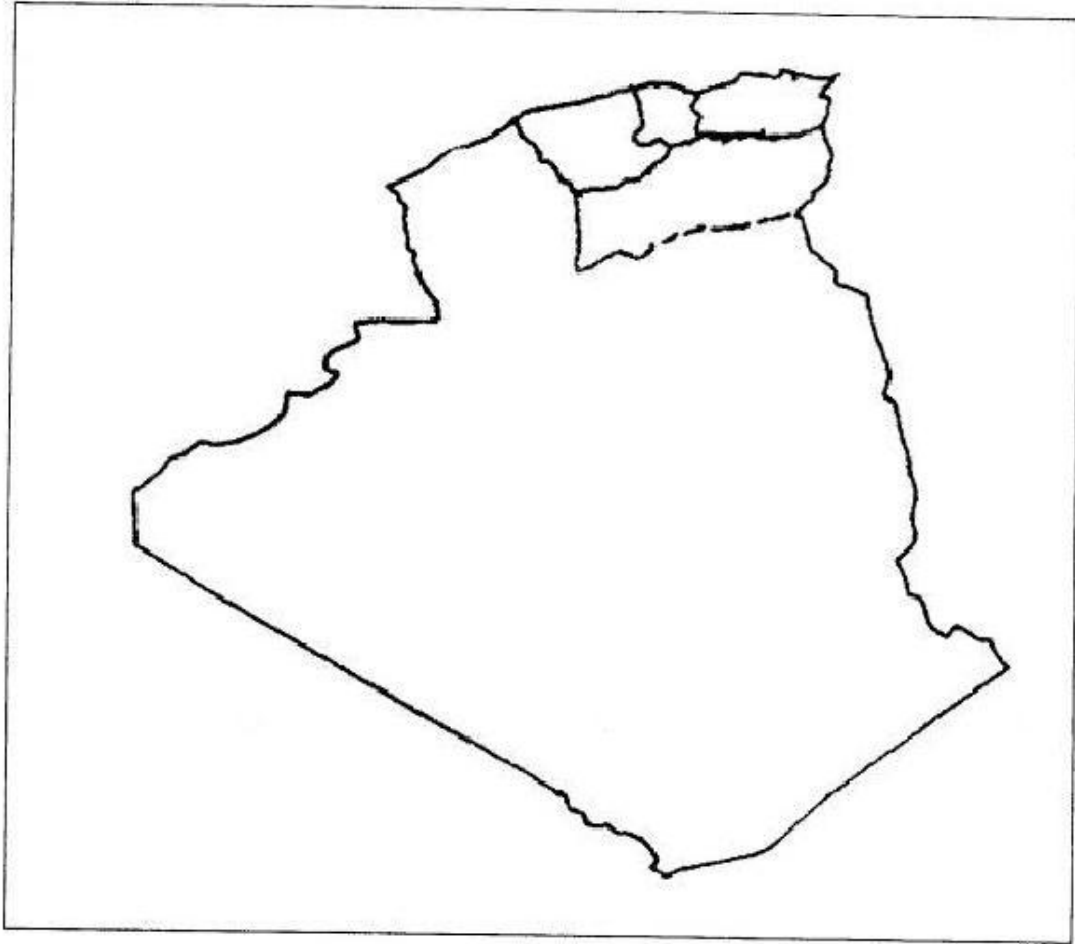
«...الجزائر هي فرنسا وفرنسا لا تعترف في عقر دارها بأي سلطة إلا سلطانها ... إن المفاوضات مع هذا البلد (الجزائر) في هذه الحال ستكون الحرب...»
المرجع : كلمة "قرانسوا ميتران" أمام البرلمان الفرنسي في 05 نوفمبر 1954

المطلوب :



- انطلاقا من العبارة و مما درست، اكتب مقالا تبرز فيه:
- 1- إستراتيجية فرنسا للقضاء على الثورة في عامها الأول.
 - 2- ردود فعل الثورة تجاهها.

خريطة المناطق العسكرية في الجزائر (شكل 03)



ينجز العمل المطلوب على الخريطة ويعاد مع أوراق الإجابة



الجغرافيا

الجزء الأول: (06 نقاط)

«... إن الإمضاء على اتفاق الشراكة مع الاتحاد الأوروبي وانضمام الجزائر لمنظمة التجارة العالمية سيؤدي حتماً إلى انفتاح كبير لحدودنا الاقتصادية، مما يفرض علينا: - تأهيل أدواتنا الإنتاجية - حيازة مواقع في الأسواق العالمية - تشجيع الاستثمار وتوسيع رقعته في البلاد...»

المرجع : الكتاب المدرسي للسنة الثالثة ثانوي جغرافياً / ص 169

المطلوب:

- 1- عرّف المصطلحات التي تحتها خط.
- 2- على خريطة العالم المرفقة (شكل 04) وقّع الدول التي تقع فيها المدن الاقتصادية التالية: سيدني - ساو باولو - دبي - باريس - نيويورك - فرتكفورت - هونغ كونغ.
- 3- إليك جدولاً يمثل تطور قيمة المبادلات التجارية العالمية، بمليار دولار

السنة	1975	1980	1985	1990	1995	2000
القيمة	950	1897	1819	3430	5200	7621

المرجع : الفضاء العالمي

- مثل أرقام الجدول بمنحنى بياني بمقياس رسم: 1 سم ← 1000 مليار دولار
1 سم ← 5 سنوات

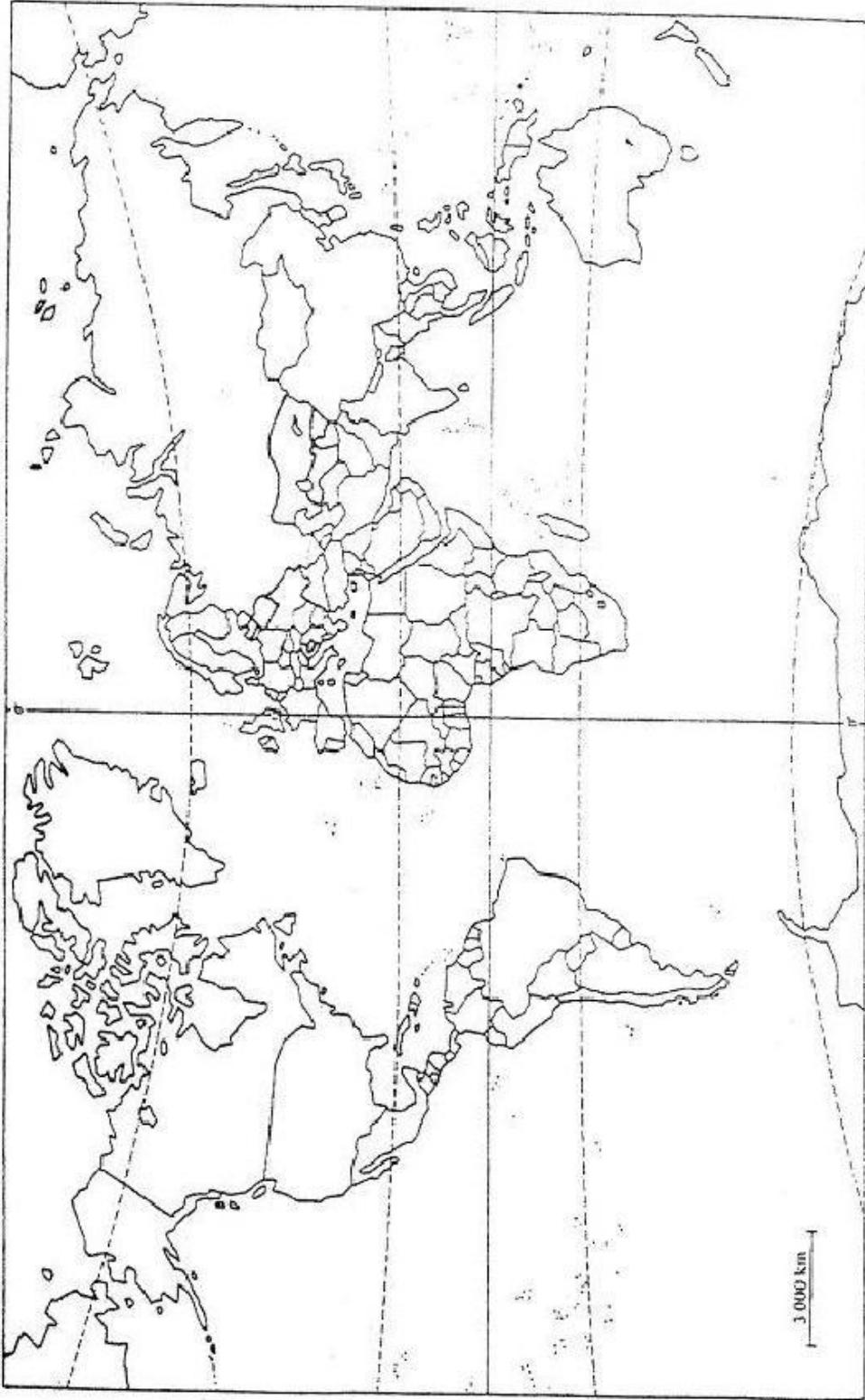
الجزء الثاني: (04 نقاط)

يعرف عالم اليوم تزايداً هائلاً لمبادلات السلع والخدمات، وتقللاً واسعاً لحركة رؤوس الأموال والإعلام.

المطلوب: انطلاقاً من الفقرة، واعتماداً على ما درست، اكتب مقالا جغرافياً تبرز فيه:

- 1- واقع حركة رؤوس الأموال في العالم.
- 2- دور التكنولوجيا والإعلام في المبادلات.





خريطة العالم (شكل 04)

ينجز العمل المطلوب على الخريطة وتعاد مع أوراق الإجابة